

### Exercice 1 : Connaissances



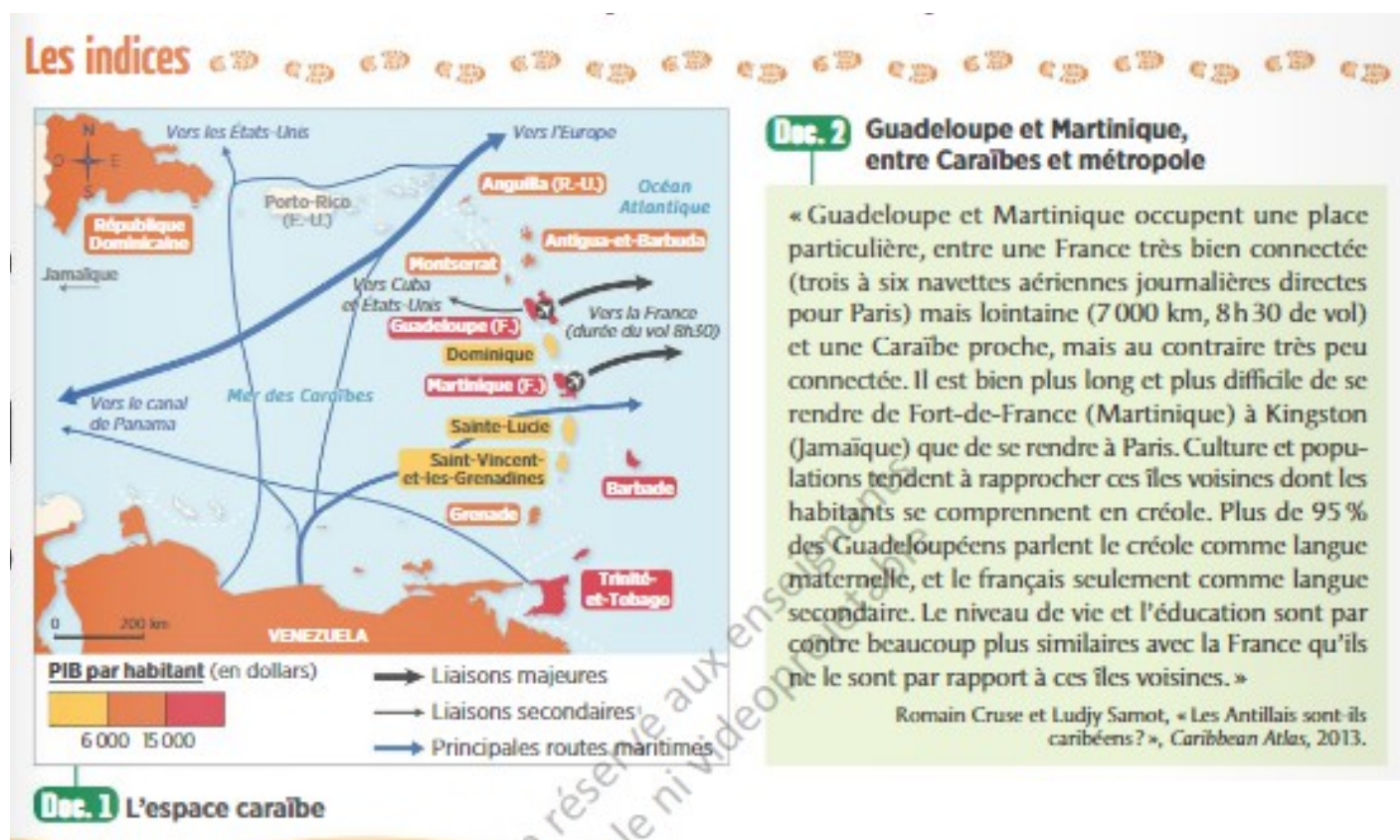
Retrouvez les propositions correctes

- a) La France compte six DROM .
- b) Mayotte est le seul espace d'outre-mer à avoir le statut de département.
- c) La Nouvelle-Calédonie possède un statut différent des autres espaces ultramarins.
- d) La Polynésie française est à moins de 10 000km de la métropole.
- e) Le statut de RUP a été mis en place à l'Union européenne.

### Exercice 2 : Nommer, localiser et caractériser un espace

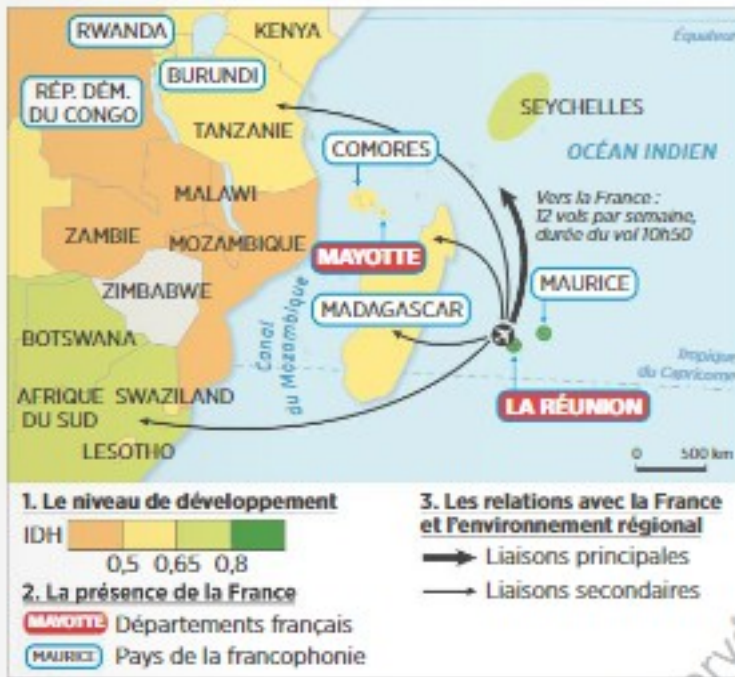


Quelles sont les caractéristiques des territoires ultramarins ?



- 1- Entourez sur le doc.1, les territoires de la Guadeloupe et de la Martinique.
- 2- Expliquez quelles sont les contraintes de ces territoires.
- 3- A l'aide des deux documents, comparez le PIB de la Guadeloupe et de la Martinique à celui des autres territoires de l'espace Caraïbe.
- 4- Montrez que ces îles sont faiblement intégrées à la région Caraïbe.
- 5- A partir de vos réponses et des documents, situez et caractérissez la Guadeloupe et la Martinique.

## Les indices



**Doc. 1** La Réunion dans son environnement régional

## **Doc. 2** Des modes de vie occidentalisés

« Depuis que La Réunion est devenue un département français en 1946, les efforts en matière de logement ont été considérables. En matière éducative, on a construit des écoles, des collèges, des lycées, créé des milliers de postes d'enseignants ; les taux de scolarisation ont rattrapé ceux de la métropole. Les infrastructures publiques ont aussi connu un essor remarquable, avec le développement du réseau routier, la construction d'équipements culturels et sportifs (théâtres, médiathèques, gymnases, piscines, stades). L'urbanisation et l'élévation des revenus ont eu pour effet un développement des pratiques de loisirs. L'automobile est devenue un objet indispensable. La population a adopté les choix vestimentaires occidentaux et les mœurs ont connu le même mouvement de libération qu'en Europe, l'influence de l'Église catholique s'affaiblissant. »

D'après Jean-Christophe Gay, *L'Outre-mer français*, Belin, 2008.

1- Entourez La Réunion sur le doc.1

2- Quelles sont les contraintes de ce territoire ?

3- A l'aide du doc.1, comparez l'IDH de La Réunion à celui des territoires voisins.

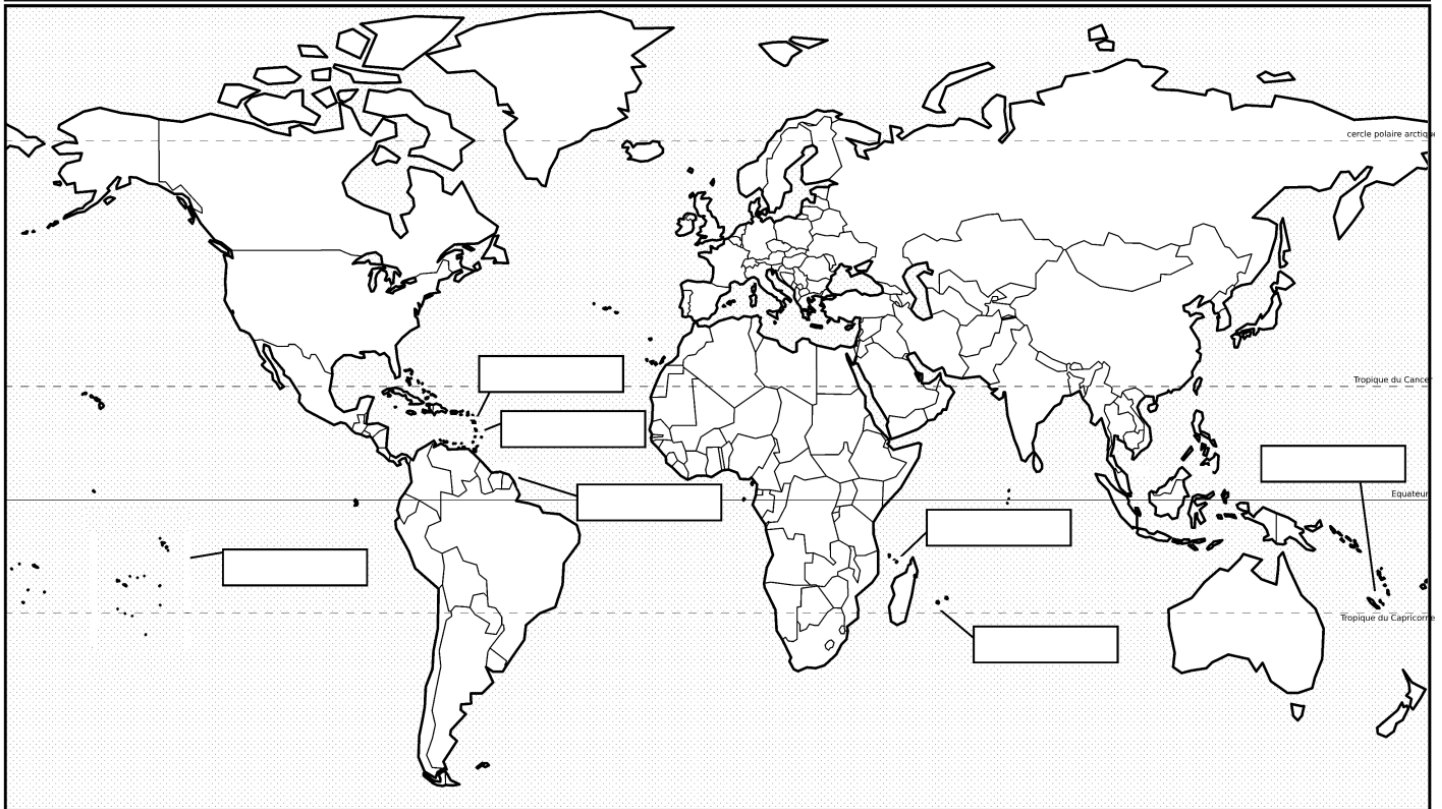
4- Montrez que cette île est faiblement intégrée à son environnement régional

5- A partir de vos réponses et des documents, situez et caractérisez La Réunion

### Exercice 3 : Je maîtrise les repères du chapitre



Titre :



#### **1- Sur le planisphère :**

- Localisez et nommez trois océans.
- Choisissez un figuré pour représenter les territoires ultramarins et placez-le dans la légende.
- Nommez et localisez trois territoires ultramarins.
- Choisissez un figuré pour représenter le territoire métropolitain, placez-le dans la légende.
- Localisez le territoire métropolitain sur le planisphère.
- Donnez un titre à ce document

### Exercice 4 : Je sais rédiger un développement construit



**2-** Rédigez un développement construit d'environ vingt lignes dans lequel vous présenterez les caractéristiques des territoires ultramarins français ainsi que les aménagements mis en oeuvre pour valoriser ces territoires. Vous pouvez vous appuyer sur un ou plusieurs exemples vus en classe.