

Séance 4 : Carte de synthèse : L'Afrique et le monde :
Individuelle
1h

Etape 1 : Je réponds aux questions en faisant des phrases correctes :

Document 1 :

1- Quelles ressources permettent à l'Afrique de s'intégrer à la mondialisation ?

Les hydrocarbures, les richesses minérales et forestières permettent à l'Afrique de s'insérer dans la mondialisation.

2- Où se situent les trois principales façades maritimes d'Afrique ?

Les trois principales façades maritimes africaines sont le littoral maghrébin au Nord, le Golfe de Guinée à l'ouest, le littoral sud-africain au sud.

3- Situez et nommez quelques métropoles qui permettent l'intégration de l'Afrique à la mondialisation ?

Les grandes métropoles en Afrique sont situées à ouest sur le littoral Atlantique comme Dakar ou Lagos, puis en Afrique du sud avec Johannesburg et enfin au nord est avec Le Caire.

Document 2 :

4- Quels sont les principaux partenaires de l'Afrique ?

Les principaux partenaires commerciaux et financiers sont l'Europe, l'Asie de l'est et notamment la Chine et enfin les États-Unis.

5- Quels sont les flux majeurs entre l'Afrique et ses partenaires ?

Les flux majeurs sont des flux d'exportation et des flux d'IDE (investissements directs étrangers).

Etape 2 : Je réalise la carte de synthèse : L'Afrique dans la mondialisation

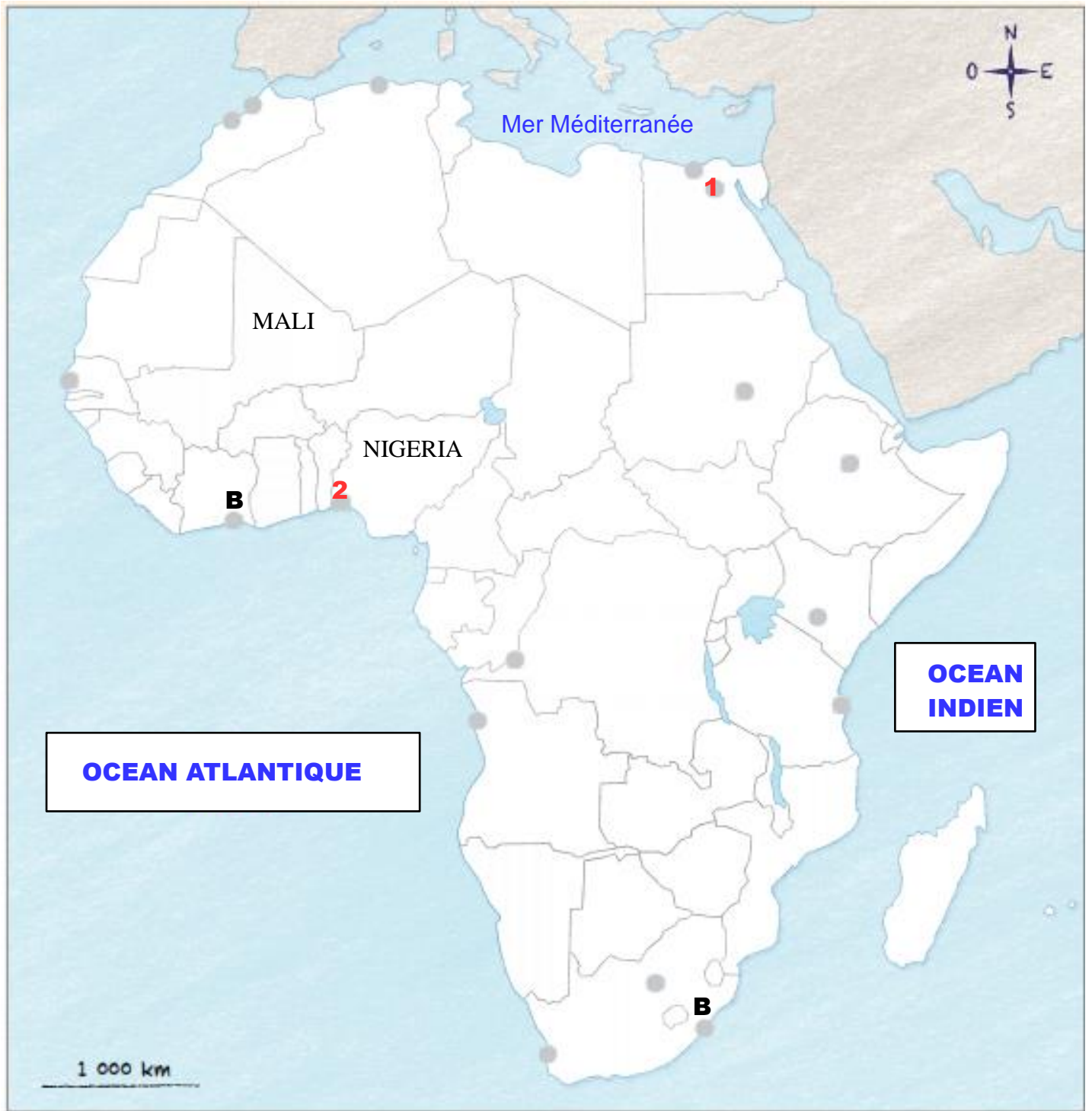
Aide :

- 1- Je sélectionne les informations utiles à partir de mes réponses et des documents
- 2- J'organise ma légende
- 3- Je cherche les figurés adaptés
- 4- Je donne un titre à chaque partie
- 5- Je réalise la carte
- 6- Je donne un titre à la carte


Etape 3 : Je me repère sur une carte

- 1- Localiser et nommer les mers et les océans dans les rectangles
- 2- Localiser et nommer un pays pétrolier, un pays enclavé, un pays touristique
- 3- Localiser et nommer deux métropoles de rang mondiale en Afrique
- 4- Localiser et nommer deux ports actifs

Titre : Le territoire africain dans la mondialisation



1- Des ressources naturelles à exporter

 Hydrocarbures : Pétrole/gaz

 Minerais et charbon

 Ressources forestières

2- Des espaces ouverts sur le monde

Métropoles de rang mondial :

- 1- Le Caire
- 2- Lagos


Ports actifs :

- △ A- Durban
- △ B- Abidjan

 Façades maritimes

Flux majeurs dans la mondialisation :

 Flux commerciaux

 Flux financiers d'IDE