

ACTIVITE 2 : Réalisation d'un croquis de synthèse sur la répartition de la population

Individuelle
30 min

Méthode de travail :

1- Je prélève des informations :

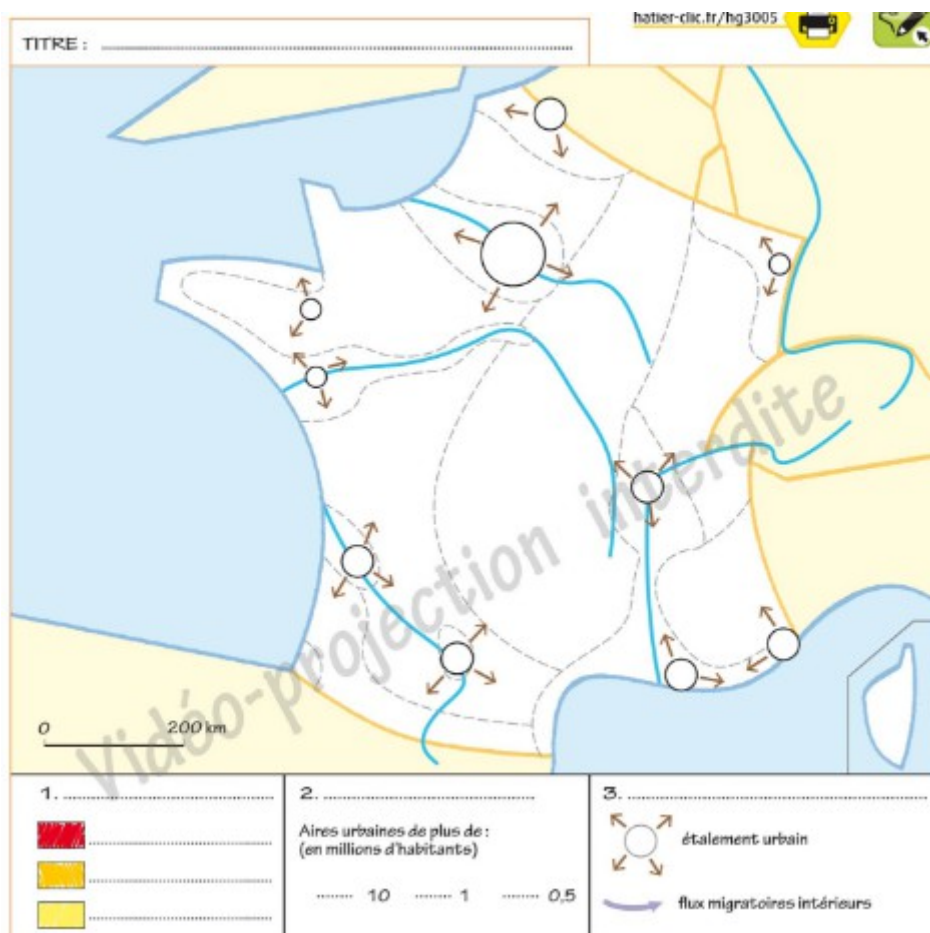
- Où sont situées les fortes et les faibles densités
- Quelles sont les aires urbaines les plus peuplées
- Vers quelles parties du territoire se dirigent les principales migrations internes

2- J'organise la légende :

- Dans la première partie, je place les intitulés suivants : densités moyennes/faibles densités/fortes densités
- Dans la seconde partie, je dessine les figurés manquants
- Je donne un titre à chaque partie de la légende puis un titre général.

3- Je complète le croquis :

- Je reporte les figurés sur le croquis
- J'ajoute le nom des aires urbaines
- J'ajoute quelques fleuves, mers et océan et pays frontaliers



Etape 1 : Je prélève des informations

a. Où se situent les fortes densités de population ? les faibles densités ?

Les fortes densités de population se situent dans les aires urbaines (Paris notamment), le long des grandes vallées fluviales (le Rhône, le Rhin, etc.) et le long des littoraux (méditerranéen par exemple). Les faibles densités de population s'observent dans la diagonale des faibles densités (« France du vide ») allant des Ardennes aux Pyrénées en passant par le Massif central, dans les montagnes (les Alpes), en Corse et en Bretagne intérieure.

b. Quelles sont les aires urbaines les plus peuplées ?

Les aires urbaines les plus peuplées sont : Paris, Lille, Nancy, Strasbourg, Lyon, Grenoble, Toulon, Nice, Aix-Marseille, Montpellier, Toulouse, Bordeaux, Nantes et Rennes.

c. Vers quelles parties du territoire se dirigent les principales migrations internes ?

Les migrations intérieures se dirigent principalement vers l'Ouest et le Sud du territoire français.

Etape 2 : J'organise la légende

a. Dans la première partie de la légende, remplacez les intitulés suivants face aux bons figurés : densités moyennes/ faibles densités / fortes densités.

b. Dessinez les figurés manquants dans la deuxième partie de la légende.

c. Donnez un titre à chaque partie de la légende.

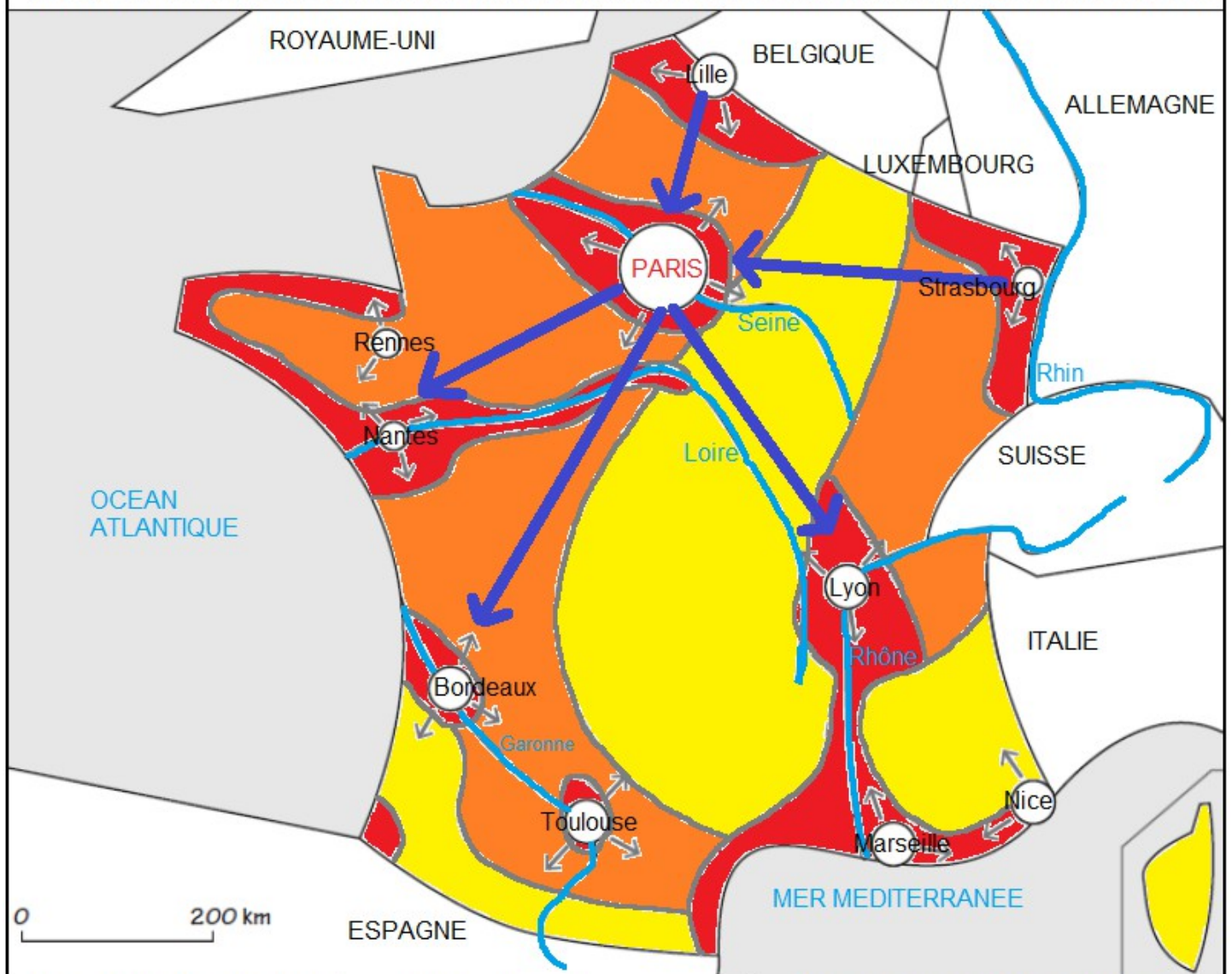
Etape 3 : Je complète le croquis

a. Complétez le croquis à l'aide des figurés choisis.

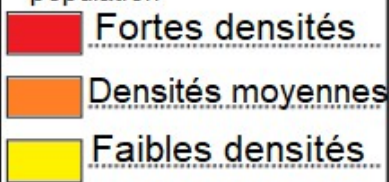
b. Ajoutez le nom des aires urbaines, des mers, des fleuves et des Etats frontaliers.

c. Donnez un titre au croquis.

TITRE : La répartition de la population et ses dynamiques en France



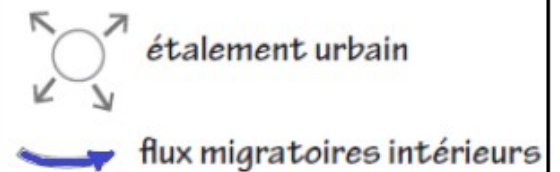
1. Une inégale répartition de la population



2. La hiérarchie urbaine



3. Les dynamiques de la population



Définitions

Croissance urbaine : développement des villes en nombre d'habitants et dans l'espace.

Mondialisation : mise en relation des différentes parties du monde sous l'effet de l'accélération des échanges.

Métropole : ville principale d'une région géographique ou d'un pays, qui est à la tête d'une aire urbaine importante.

Métropolisation : concentration des fonctions de commandement, des richesses et de la population dans les grandes villes.