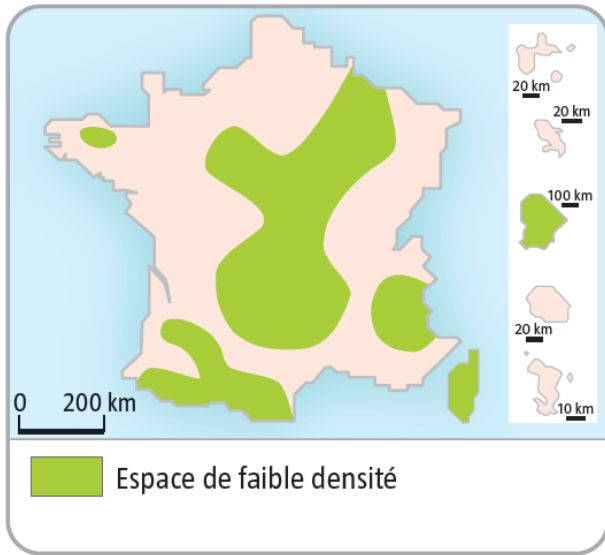


## 14. Les espaces de faible densité et leurs atouts

### I. Comment la population des espaces de faible densité évolue-t-elle ?

#### CARTE REPÈRE



#### CHIFFRES CLÉS

- 30 habitants/km<sup>2</sup> = faible densité
- 35 % de la population française
- 90 % du territoire français

#### MOTS CLÉS

- Crise démographique

#### IDÉES CLÉS

◆ .....

◆ .....

◆ .....

◆ .....

◆ .....

◆ .....

◆ .....

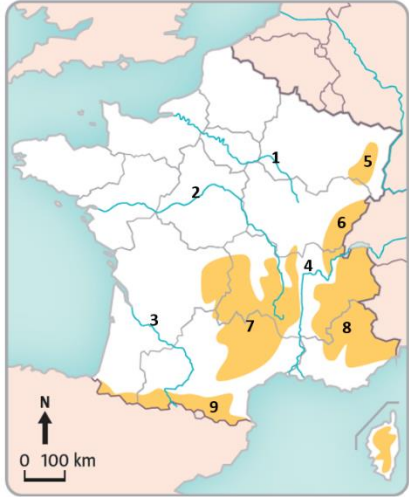
◆ .....

# FICHE MÉMO

## 14. Les espaces de faible densité et leurs atouts

### II. Sur quels atouts les espaces de faible densité s'appuient-ils pour se développer ?

#### CARTE REPÈRE À COMPLÉTER



Nommez les fleuves et massifs montagneux de la métropole.

- 1. ....
- 2. ....
- 3. ....
- 4. ....
- 5. ....
- 6. ....
- 7. ....
- 8. ....
- 9. ....

#### MOTS CLÉS

- Atouts
- Espaces attractifs
- Agriculture intensive
- Néoruraux
- Tourisme vert
- Parcs naturels
- Valorisation des produits : labellisation et vente directe

#### IDÉES CLÉS

◆ .....

◆ .....

◆ .....

◆ .....

◆ .....

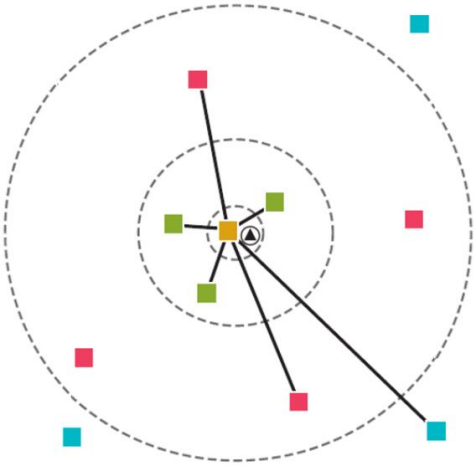
◆ .....

◆ .....

### III. À quels nouveaux défis les espaces de faible densité sont-ils confrontés ?

#### SCHÉMA À COMPLÉTER

Accès aux services dans un territoire de faible densité



1. Différents niveaux de services
- .....
  - .....
  - .....
2. La nécessité de la mobilité
- .....
  - .....
  - ⊙ .....

#### MOTS CLÉS

- Mobilité
- Accès aux services
- Accès à Internet
- Protection de l'environnement
- Conflits d'usage

#### IDÉES CLÉS

- ❖ .....
- ❖ .....
- ❖ .....
- ❖ .....
- ❖ .....
- ❖ .....
- ❖ .....