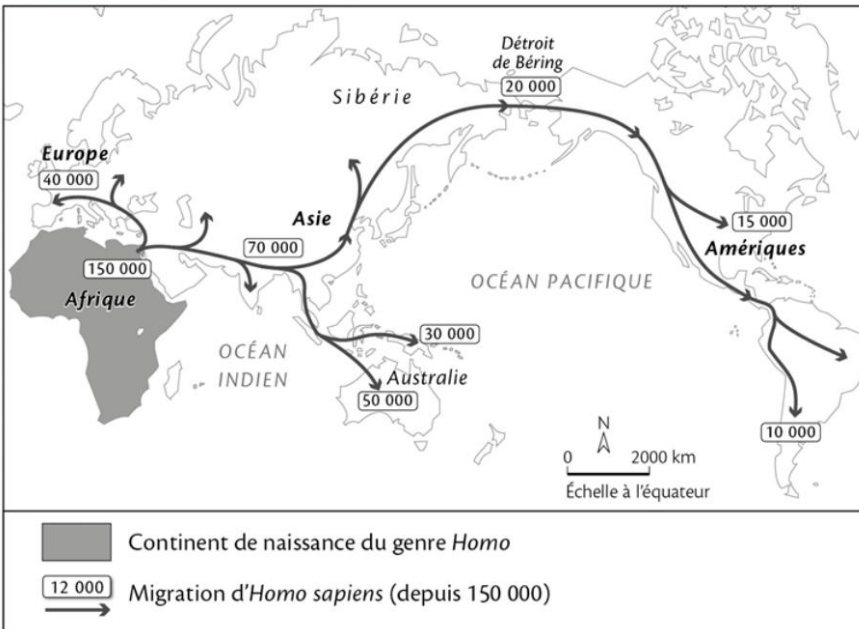


Consolidation des connaissances

EXERCICE 1

Doc. 1 Les premières migrations



1 À l'aide du doc. 1, indiquez sur quel continent est apparu le genre humain.

- En Afrique En Europe
 En Amérique En Océanie
 En Asie

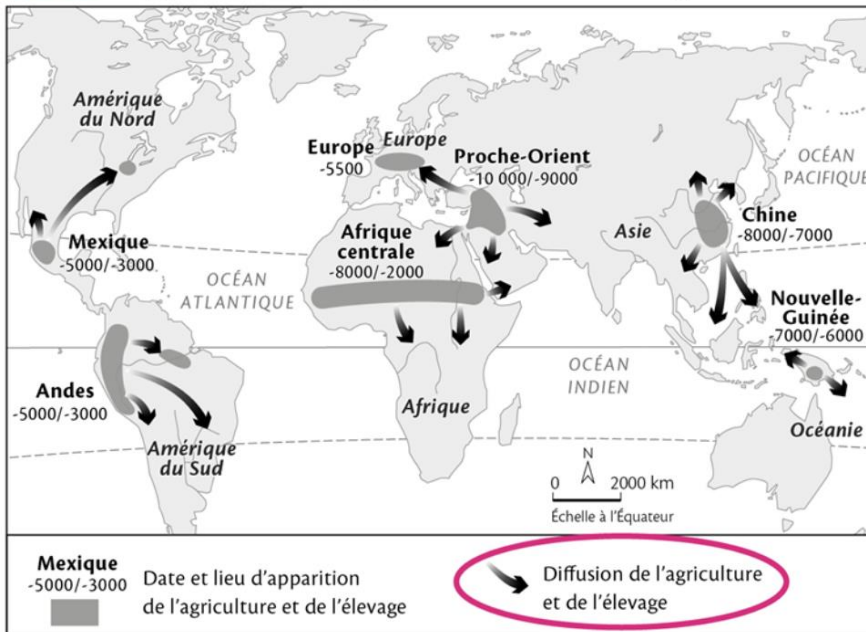
2 À l'aide du doc. 1, indiquez quelle espèce d'*Homo* a quitté l'Afrique depuis 150 000 ans.

Homo sapiens.....

3 À l'aide du doc. 1, indiquez quel continent a été peuplé en dernier.

L'Amérique.....

Doc. 2 L'apparition de l'agriculture et de l'élevage



4 Observez la carte 2 et les dates d'apparition de l'agriculture dans chaque région du monde. Où l'agriculture est-elle apparue en premier ?

- Au Proche-Orient
 En Chine
 Au Mexique

À quelles dates ?

Entre - 10 000 et - 9 000.....

5 Entourez dans la légende du doc. 2 le figuré qui montre que l'agriculture se diffuse.

Complétez les phrases à l'aide des mots importants, puis soulignez les dates importantes.

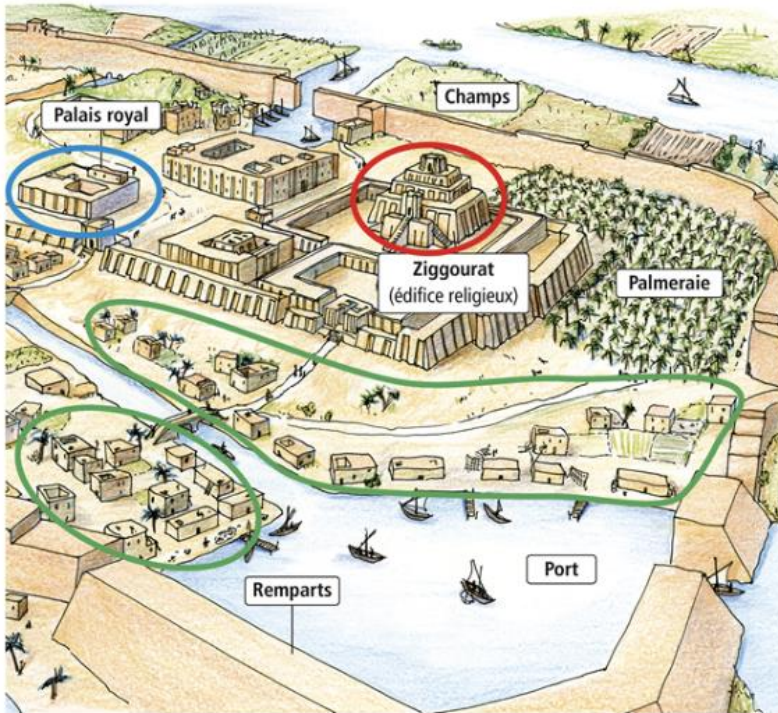
→ L'humanité apparaît avec le genre *homo* sur le continent *africain*..... vers - 3 millions d'années.

→ Les *migrations*..... ont permis à l'humanité de peupler la planète.

→ Au Néolithique, vers - 10 000, l'*agriculture*..... et l'élevage se développent. Les hommes et les femmes se *sédentarisent*..... dans des villages et modifient leur environnement pour vivre.

EXERCICE 2

Doc. 1 Reconstitution de la cité-État d'Ur



Doc. 2 Un compte de chèvres et de moutons



Tablette d'argile, cité-État de Sumer (Mésopotamie), vers 2350 avant J.-C.

1 Entourez sur le doc. 1 :

- en bleu le lieu où le roi gouverne ;
- en rouge le lieu pour honorer les dieux ;
- en vert les habitations.

2 Montrez, à l'aide de cette reconstitution (doc. 1), que les cités-États mésopotamiennes étaient gouvernées par un roi.

Les cités-États de Mésopotamie sont gouvernées par un roi, car on voit sur cette reconstitution un palais royal.

3 Observez l'image (doc. 2) et complétez le tableau.

Quelle écriture ?	<i>l'écriture cunéiforme</i>
Dans quelle région ?	<i>en Mésopotamie</i>
À quelle date et durant quel millénaire apparaît-elle ?	<i>vers - 3 500, au IV^e millénaire av. J.-C.</i>
Sur quel support écrit-on ?	<i>des tablettes d'argile</i>
À quoi sert l'écriture dans cet exemple ?	<i>à compter les animaux d'un élevage</i>

CE QUE J'AI COMPRIS

Trouvez la bonne affirmation en rayant les mauvaises propositions.

→ Une cité-État est un territoire composé d'une ville fortifiée et des ~~banlieues~~ / ~~campagnes~~ qui l'entourent.

→ Un ~~roi~~ / ~~président~~ la dirige et les habitants lui obéissent. Les habitants croient en de nombreux dieux : ils sont ~~monothéistes~~ / ~~polythéistes~~.

→ Chaque cité-État est protégée par plusieurs dieux dont le temple est la ~~cathédrale~~ / ~~ziggurat~~.

→ Les écritures apparaissent au ~~VI^e~~ / ~~IV^e~~ millénaire avant J.-C. en Égypte et en Mésopotamie.

→ Les écritures sont utiles pour ~~compter~~ / ~~faire du commerce~~ / ~~envoyer un SMS~~ / ~~écrire des lois~~ / ~~exprimer des croyances~~ (plusieurs réponses).