

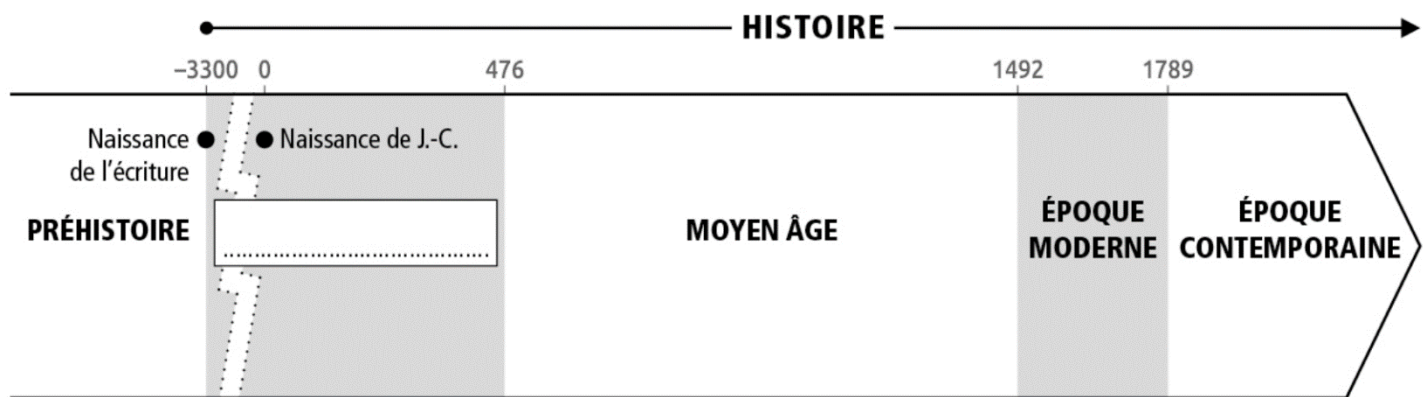
Evaluation diagnostique Thème 2 : Récits fondateurs, croyances et citoyenneté dans la Méditerranée antique au 1er millénaire avant J.-C.

NOM :

Classe :

Compétences	Niveau	I	F	S	TB
Se repérer dans le temps		Je connais une période historique	Je sais lire une frise chronologique	Je sais me repérer dans le temps	Je connais une rupture historique
Se repérer dans l'espace		Je connais une mer	Je sais placer des continents sur une carte	Je sais placer des pays sur un carte	Je sais placer des villes sur une carte
Mobiliser ses connaissances					

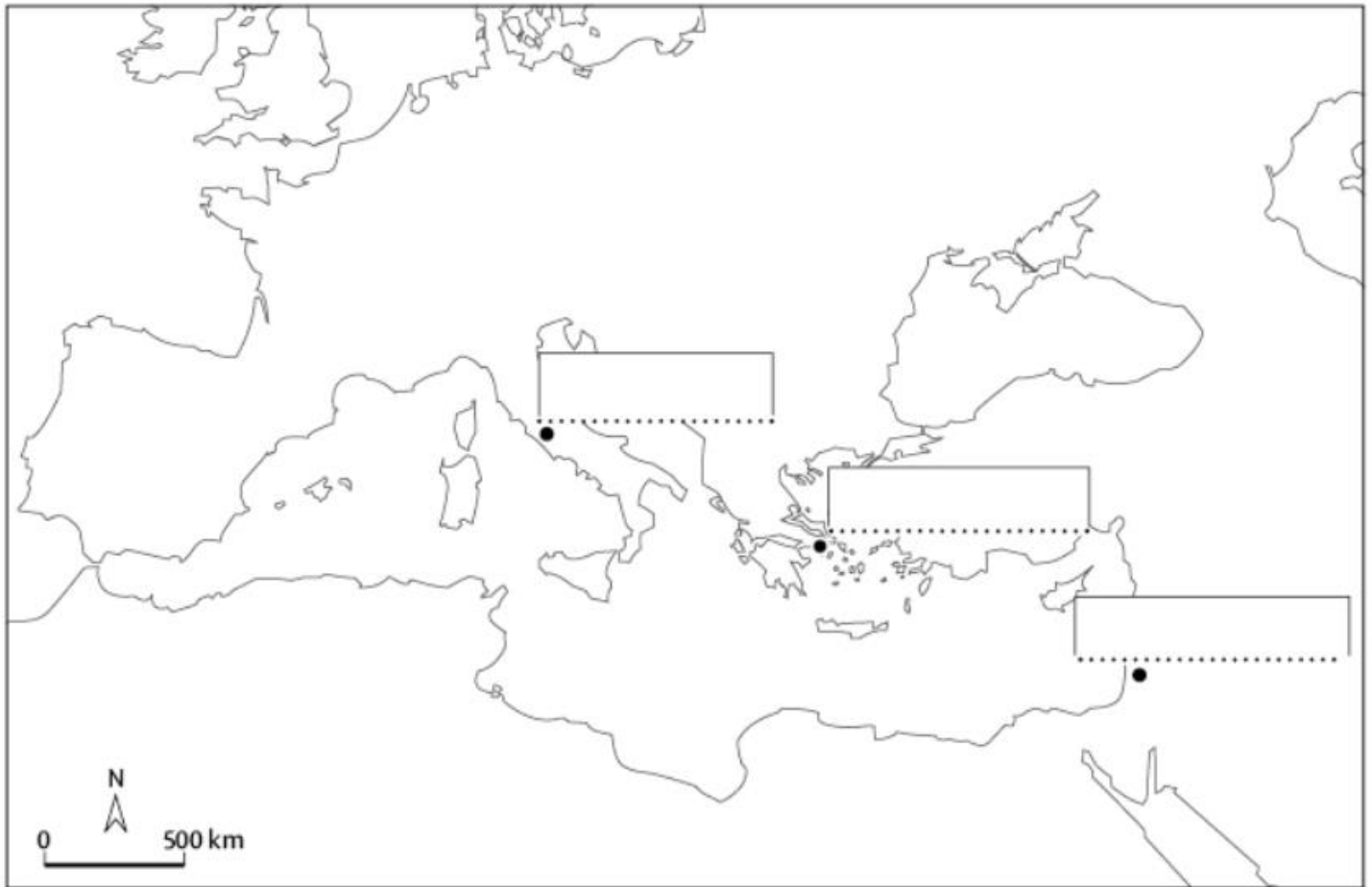
Exercice 1 : Se repérer dans le temps



Consignes :

- 1- **Identifiez et écrivez** sur la frise le nom de la période historique **dans le rectangle**.
- 2- Selon les historiens, **entoure en rouge** de quelle date à quelle date s'étend cette première période de l'Histoire ?
- 3- **Complète** ces phrases par les mots « **antérieure** » (avant) ou « **postérieure** » (après).
 - a) L'époque moderne est.....à l'époque contemporaine.
 - b) L'Antiquité est à la Préhistoire.
 - c) L'époque contemporaine est à l'époque moderne.
- 4- Cette première période de l'Histoire se termine avec : **Entoure la bonne réponse**
 - a) La fin de l'Empire romain d'Occident dont Rome est la capitale
 - b) La Première Guerre mondiale
 - c) La découverte de l'Amérique par Christophe Colomb

Exercice 2 : Se repérer dans l'espace



Consignes :

1- Sur la carte, **localisez en écrivant** le nom :

- des **continents** : ASIE / EUROPE / AFRIQUE
- des **pays** : France / Italie / Grèce
- d'une **mer** : Mer Méditerranée

2- Sur la carte, **localisez** le nom des trois villes **dans les rectangles** : Athènes, Jérusalem et Rome

Exercice 3 : Mobiliser ses connaissances

1- Au moment où apparaissent les premiers Etats dans l'orient ancien, les hommes et les femmes sont : **raye la mauvaise proposition**

- a) Polythéistes, ils croient en plusieurs dieux
- b) Monothéistes, ils croient en un seul dieu

2- La ville de Jérusalem, souvent dans l'actualité, est un lieu sacré pour : **entoure la ou les bonnes réponses**

- a) Les juifs
- b) Les chrétiens
- c) Les musulmans

3- Identifie les traces du passé et leur utilité pour l'Histoire

A



Une archéologue observe des restes humains découverts à Atapuerca en Espagne.

B




Illustration représentant un camp romain.

C



Les arènes de Nîmes (Gard), I^{er} siècle av. J.-C.

D



Les manuscrits de Qumrân, découverts près de la mer Morte en 1947.

a) Relie chaque image au type de document :

Image A

Image B

Image C

Image D

Vestiges de constructions

Ossements humains

Reconstitution

Textes anciens

b) Laquelle de ces quatre images ne représente pas une trace du passé ?
