

# Les espaces productifs de services

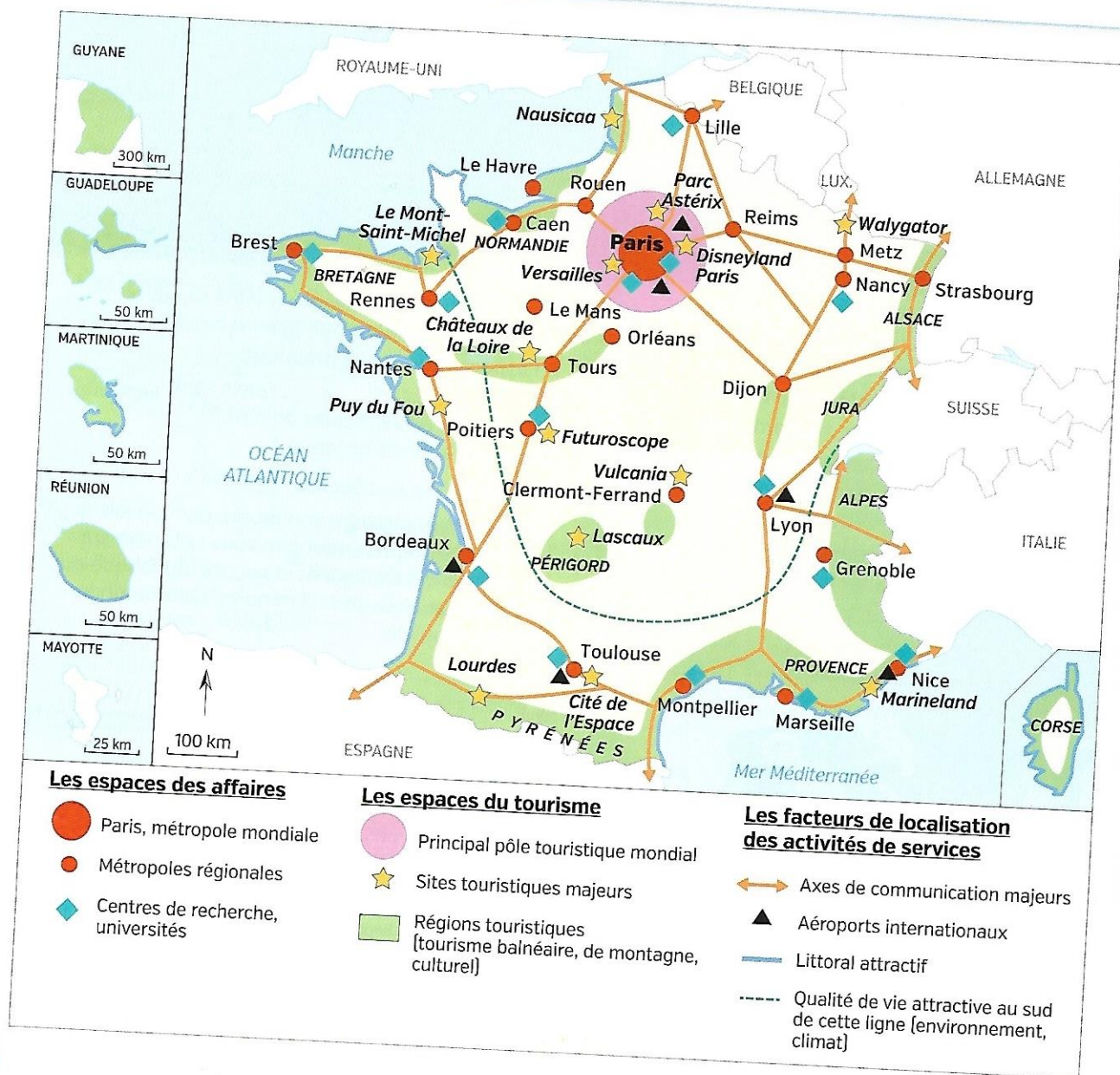
**Question clé** Comment les évolutions des activités de services se traduisent-elles sur le territoire français ?

ÉTAPE 1

J'identifie les dynamiques des espaces productifs de services

Je situe dans l'espace

- 1 Quelle est la première destination touristique française ?
- 2 Où se situent les principales régions touristiques en France ?
- 3 Dans quel type d'espace se concentrent les activités dites d'affaires [activités de services] ?
- 4 Relevez deux raisons qui expliquent la localisation des activités de services en France.




**ÉTAPE 2**

**J'associe un paysage à chaque type d'espace de services**

D'après la carte p. 240, à quel type d'espace de services chacun de ces paysages correspond-il ?




**1** Euralille, le quartier d'affaires de la métropole lilloise, 2015



**2** Océanopolis, le parc de découverte des océans à Brest, 2015



**3** Le campus universitaire de Grenoble, 2015



**4** Musée des Civilisations de l'Europe et de la Méditerranée [Marseille], 2013

**ÉTAPE 3**

**Je passe au croquis**

Construisez la légende de ce croquis.

5 Recopiez et organisez les différentes informations :

- espaces touristiques
- aéroports internationaux
- limite de l'attractivité des territoires du Sud et de l'Ouest
- axes de transport majeurs
- pôles tertiaires

6 Dessinez les bons figurés cartographiques devant chacune des informations.

site élève  
croquis à imprimer

**Les espaces de production de services**

