

Les espaces de faible densité en France

ÉTAPE 1

Je repère les atouts et les dynamiques des espaces de faible densité

Je situe dans l'espace

- 1 Où les espaces de faible densité sont-ils situés en France ?
- 2 Montrez que ces espaces connaissent des dynamiques très différentes.
- 3 D'après la carte, quels sont les principaux atouts des espaces de faible densité ?
- 4 Identifiez sur la carte l'espace de faible densité le plus proche de chez vous. Quels sont ses atouts ?



Des espaces de faible densité

- Densités de population :
- Plus de 30 hab./km²
 - Entre 10 et 30 hab./km²
 - Inférieures à 10 hab./km²
- Diagonale des faibles densités

Des dynamiques de renouvellement

- Migrations de néoruraux
- Principales aires urbaines
- Parcs naturels régionaux et nationaux
- Stations de sports d'hiver
- Quelques grands sites naturels

Une grande diversité d'espaces


- RÉGION Grandes régions d'agriculture productiviste
- RÉGION Espaces menacés par le dépeuplement
- RÉGION Principales régions touristiques de montagne
- RÉGION Exemples de tourisme vert actif

ÉTAPE 3


ÉTAPE 2

J'identifie les espaces de faible densité

D'après la carte p. 258, à quel type d'espaces de faible densité chacun de ces paysages correspond-il ?




1 Le village de Carbini dans le sud de la Corse, 2014



2 Les vignes de champagne à Ville-Dommange (Marne), 2015



3 Pouylebon (Gers) et son patrimoine culturel, 2015



4 Sommet du Mont d'Or à Métabief (Doubs), 2015

ÉTAPE 3

Je passe au croquis

Construisez la légende de ce croquis.

5 Recopiez et organisez les différentes informations :

- Diagonale des faibles densités
- Stations de ski
- Migration de néoruraux
- Attraction des territoires au Sud
- Espaces de faible densité
- Parcs nationaux

6 Dessinez les bons figurés cartographiques devant chacune des informations.

site élève
croquis à imprimer

Les espaces de faible densité

