

Le Mali : une forte croissance démographique

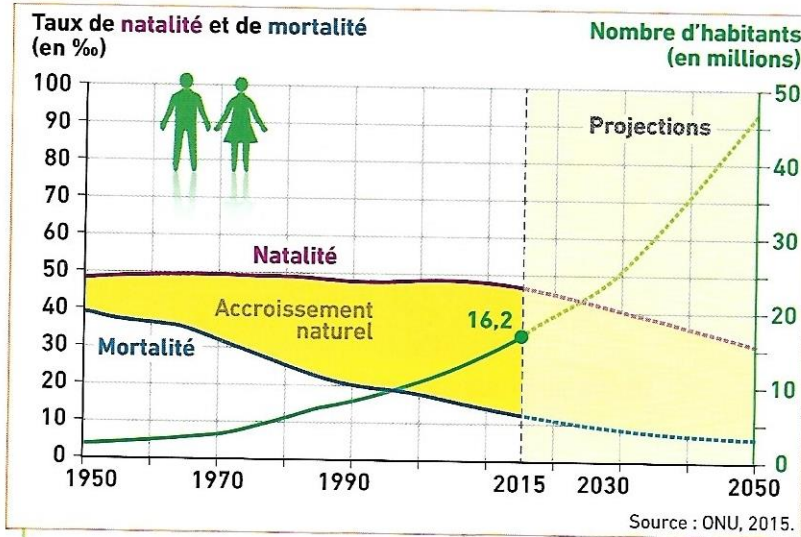
COMPÉTENCE

Je pratique différents langages
Compléter un schéma sur la croissance démographique


Le Mali est l'un des pays les plus pauvres du monde. Il connaît une forte croissance démographique et sa population devrait doubler d'ici à 2030.



► Quels sont les problèmes posés par une forte croissance démographique dans un pays pauvre ?



1 L'évolution de la population du Mali



2 Une école rurale au Mali

Au Mali, 84 % des enfants sont scolarisés à l'école primaire, dans des conditions parfois très difficiles. Ce taux tombe à 53 % pour le collège.

3 Les enjeux de la démographie malienne

« À l'avenir, le Mali risque fort d'être asphyxié par sa démographie galopante. Sous l'effet d'un taux de croissance de 3,6 % de 1998 à 2009, sa population devrait passer de 16,2 millions d'habitants en 2015 à 26 millions en 2030.

Les moins de 15 ans représentant la moitié de la population actuelle, c'est une marée de jeunes qui arrivera sur le marché du travail, lequel devra accueillir 300 000 demandeurs d'emploi supplémentaires par an en 2030. Cet afflux nécessiterait d'abord d'énormes efforts budgétaires en matière de scolarisation et de formation que le Mali n'est pas en état de fournir.

Autre défi : l'urbanisation (Bamako comptera 5 millions d'habitants en 2030), qui empêche les pouvoirs publics de suivre le mouvement avec des infrastructures¹ adaptées en matière d'assainissement, d'eau et de transport. Des problèmes d'insécurité pourraient résulter du cocktail explosif de la montée de la pauvreté urbaine et du chômage des jeunes. »

■ A. Faujas, « Mali : une belle croissance menacée par la démographie », www.jeuneafrique.com, 17 octobre 2011 (données actualisées 2015).

1. Équipements.

4 L'accès à

90 % des ha...
directement
fontaines pu...
confié aux fi...

5 Quelques

Nombre d'enfa
Espérance de v
à la naissance
Taux de mortali
Nombre de mé
pour 10 000 pe
Revenu par hab
Population vive
moins d'1,25 \$
(en % de la pop. to

vocabulaire

L'accroissement
de naissances e
La croissance d
de la populatio
Le taux de nata
pour 1 000 habi
Le taux de mort
pour 1 000 habi

COMPÉTENCE
 Je pratique différents langages
 Compléter un schéma sur
 la croissance démographique




La géographie malienne

Le Mali risque fort
 d'être touché par sa démo-
 graphique. Sous l'ef-
 fet de croissance de
 sa population, sa popu-
 lation va passer de 16,2
 millions d'habitants en 2015 à
 25 millions en 2030.

Les 15 ans représen-
 tent 25 % de la population
 et une marée de
 migrants, lequel devra
 répondre à 100 000 demandeurs
 supplémentaires par
 an. Cet afflux néces-
 site l'investissement d'énormes
 ressources en matière
 de formation et de forma-
 tion. Le Mali n'est pas en

face à l'urbanisation
 qui comptera 5 millions
 d'habitants en 2030), qui
 nécessite des pouvoirs publics
 pour faire mouvement avec
 des infrastructures¹ adaptées
 à l'assainissement,
 au transport. Des pro-
 blèmes de sécurité pourraient
 être aggravés par un cocktail explosif
 de la pauvreté et du chômage des

1. Une belle croissance
 démographique »,
 L'Express.com, 17 octobre
 2015.



4 L'accès à l'eau à Bamako

90 % des habitants de Bamako n'ont pas accès directement à l'eau potable. Ils ont recours à des fontaines publiques. Le transport de l'eau est souvent confié aux femmes et aux enfants.

5 Quelques indicateurs de développement

	Mali	France
Nombre d'enfants par femme	6,8	1,9
Espérance de vie à la naissance	56 ans	82 ans
Taux de mortalité infantile	46,5 ‰	12,2 ‰
Nombre de médecins pour 10 000 personnes	0,8	33,8
Revenu par habitant et par an	1 499 \$	36 629 \$
Population vivant avec moins d'1,25 \$ par jour (en % de la pop. totale)	50,43 %	0 %

Sources : INED et PNUD, 2015.

Vocabulaire

L'accroissement naturel : la différence entre le nombre de naissances et le nombre de décès.

La croissance démographique : l'augmentation de la population.

Le taux de natalité : le nombre de naissances pour 1 000 habitants.

Le taux de mortalité : le nombre de décès pour 1 000 habitants.

ACTIVITÉS

- Doc. 1** | Comment les taux de natalité et de mortalité ont-ils évolué au Mali depuis 1950 ? Quelle en a été la conséquence sur l'évolution de la population ?
- Doc. 1 et 3** | Montrez que cette forte croissance démographique va se poursuivre dans les années à venir.
- Doc. 2 et 3** | Quels problèmes cette croissance pose-t-elle dans les domaines de la scolarisation et de l'emploi ?
- Doc. 4 et 5** | Quelles sont les infrastructures manquantes nécessaires aux besoins des habitants du Mali ?
- Doc. 3 et 5** | « Satisfaire les besoins d'une population en croissance est difficile car le Mali est un pays pauvre » : justifiez cette affirmation.
- Je pratique différents langages**

Complétez le schéma logique avec les mots : *Besoins d'emplois et d'écoles* • *Natalité forte et mortalité en baisse* • *Besoins d'accès à l'eau et aux transports* • *Croissance de la population*.

