

Activité 3 : Des particularités fortes dans les territoires ultramarins français

Binôme

1h

Étape 1 : Rédiger un développement construit

Rédigez les deux paragraphes d'un développement construit sur un aménagement routier à la Réunion en répondant aux questions suivantes :

Un aménagement qui répond à des contraintes et des besoins.

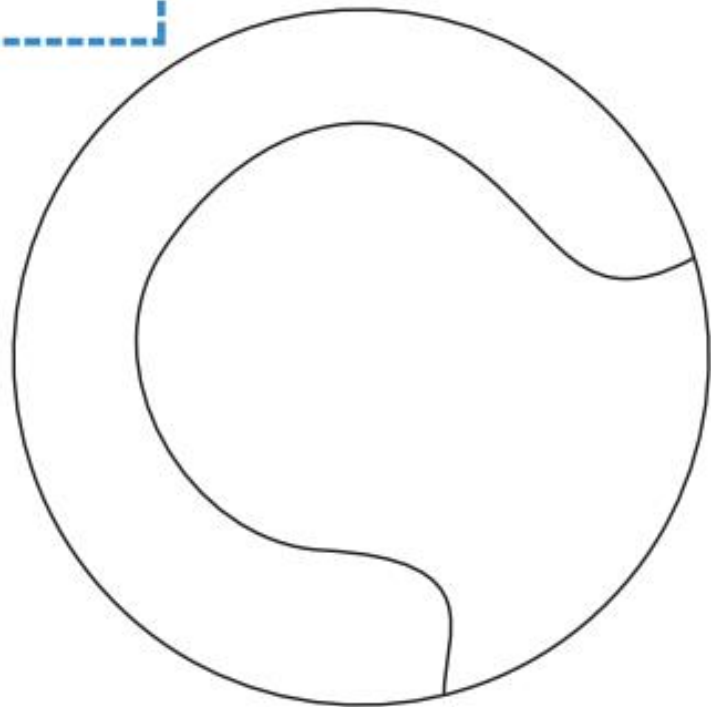
- 1- Localisez et situez l'île de la Réunion. Quelles sont ses spécificités par rapport au territoire métropolitain ?
- 2- Où la population se concentre-t-elle ? où se situent les principales agglomérations ? Quelles contraintes naturelles expliquent cette répartition ?
- 3- A quels besoins ce projet a-t-il répondu ?

La mise en œuvre de cet aménagement.

- 1- Présentez l'aménagement dont il est question. Comment est-il qualifié dans le doc.2 et Pourquoi ?
- 2- Quels sont les acteurs à l'origine de cette infrastructure ?
- 3- Quels sont les atouts de cet aménagement pour le territoire réunionnais ?

Etape 2 : Réaliser un schéma cartographique en géographie




Titre :



1. L'organisation spatiale de l'île

-  Aéroport
-  Espace de forte densité
-  Espace naturel escarpé
-  Principale ville
-  Principale route

2. Les liens avec la métropole et l'UE

-  Éloignement géographique
-  Aides financières
-  Flux touristiques